

國立中正大學九十八學年度碩士在職專班招生考試試題
系所別：經濟學系國際經濟學

科目：經濟學

第 1 節

第 1 頁，共 6 頁

注意：請考生答題前，務必閱讀以下注意事項。

(1) 本試卷共有 50 題單選題，依照題號順序，將答案寫在答案卷第一頁選擇題作答區對

應題號的空格內 (第 1~50 格)。

(2) 每格答對得 2 分，答錯或未作答 0 分。

(3) 答題不要求任何計算過程，只依答案格內的答案對錯給分。

1. 「隱藏性失業」指的是：

【A】結構性失業

【C】自然失業

2. 失業率的計算公式是：

【A】(失業人口/總人口) × 100%

【C】(失業人口/勞動力) × 100%

3. 下列何者包括在臺灣的 GNP 中但卻不在臺灣的 GDP 中？

【A】臺灣出口至日本的農產品

【C】富士通 (Fujitsu) 在臺灣的投資

4. 某國只生產甲、乙、丙三種商品，價格和數量如下表所示。以 2007 年為基期，則 2008 年的 CPI 是：

商品	2007年		2008年	
	價格	數量	價格	數量
甲	5	6	5	10
乙	4	5	10	10
丙	7	10	10	5

【A】150

【B】160

【C】167

【D】200

5. 承第 4 題。問 2008 年的 GDP 平減指數是：

【A】150

【B】160

【C】167

【D】200

6. 貨幣流通速度等於：

【A】實質 GDP / 貨幣供給量

【C】名目 GDP / 貨幣供給量

7. 一簡化的經濟如下： $C = 30 + 0.8Y_d$, $I = 200$, $G = 100$, $T = 50$ ，其中 C 、 I 、 G 、 T 、 Y_d 分別表消費、投資、政府支出、稅以及可支配所得。問該經濟的均衡所得是：

【A】1450

【B】1550

【C】1650

【D】3600

8. 承第 7 題。該經濟政府發放消費券，對均衡所得增加的乘數為何？

【A】0.8

【B】1.25

【C】2.5

【D】5

9. 承第 7 題。以 S 表儲蓄，則該經濟均衡式必須滿足：

【A】 $I = S + (T - G)$

【B】 $I = S + (G - T)$

【C】 $Y = C + S + (T - G)$

【D】 $Y = C + I + (T - G)$

國立中正大學九十八學年度碩士在職專班招生考試試題
系所別：經濟學系國際經濟學

科目：經濟學

第 1 節

第 2 頁，共 6 頁

10. 當一經濟的均衡所得低於充分就業所得時，該經濟有：
【A】通貨膨脹
【B】膨脹缺口
【C】緊縮缺口
【D】自然失業率
11. 承第 10 題。下列哪些政府措施可以改善該經濟：
甲、在公開市場買回公債；乙、提高租稅的稅率；丙、減少進口的管制；丁、擴大內需；戊、貶值
【A】甲、丙
【B】甲、丁、戊
【C】乙、丙
【D】丁、戊
12. 台灣貨幣供給額 M_{1B} 的定義，不包括：
【A】支票存款
【B】定期存款
【C】活期儲蓄存款
【D】活期存款
13. 在其他情況不變下，下列哪一事項不會使準備貨幣增加？
【A】外匯增加
【B】政府存款減少
【C】金融機構轉存款增加
【D】央行增加借款給政府
14. 在下列哪一個情形之下，貨幣乘數將會愈大？
【A】各種存款的法定準備率愈低
【B】銀行所保有的超額準備愈小
【C】家庭及廠商保有通貨之意願愈低
【D】以上皆是
15. 關於流動性陷阱 (liquidity trap) 的描述，下列何者不正確？
【A】一般都發生在低利率時
【B】貨幣政策對提高所得有效
【C】財政政策對提高所得有效
【D】人民對現金的需求很大
16. 國際間大豆、玉米、煤、原油等物資價格上漲，導致國內物價上漲的情形屬於：
【A】成本推動的通貨膨脹
【B】需求拉動的通貨膨脹
【C】未預期的通貨膨脹
【D】通貨緊縮
17. 央行以寬鬆的貨幣政策解決停滯性膨脹的問題，造成的結果是：
【A】物價繼續上漲
【B】失業率升高
【C】實質國內生產毛額減少
【D】物價回穩且實質國內生產毛額增加
18. 政府提供廠商新僱用勞工每人每月 1 萬元的新資補助。對勞動市場的預期影響不包括：
【A】勞動需求增加
【B】勞動雇用量增加
【C】均衡實質工資增加
【D】失業救濟金支出增加
19. 假設一經濟的投資對利率完全不敏感 (perfectly insensitive)，該經濟振興經濟的方案不應包括：
【A】擴大內需
【B】鼓勵出口
【C】銀行降息
【D】發消費券
20. 若 2008 年台灣每人年平均所得約 15,000 美元，且每年經濟成長率皆固定為 6%。要達到每人年平均所得為 30,000 美元，約需多少年？
【A】3 年
【B】6 年
【C】8 年
【D】12 年
21. 假設名目工資與物價水準同時下降 3%，則：
【A】勞動需求會下降
【B】勞動需求會增加
【C】勞動供給會下降
【D】勞動供給量不變
22. 「擴大內需」的財政政策所得效果，在下列哪一個經濟最小？
【A】物價僵固、貨幣市場有流動性陷阱
【B】物價變動、貨幣市場有流動性陷阱
【C】物價變動、貨幣市場無流動性陷阱
【D】物價僵固、貨幣市場無流動性陷阱

23. 有一份消費報告，消費函數： $C_t = b_1 Y_t + b_2 \bar{Y}^e + b_3 A_t$ ， C_t 是 t 期消費、 Y_t 是 t 期所得、 \bar{Y}^e 是未來預期平均所得、 A_t 是 t 期資產。假設 $\bar{Y}^e = \beta Y_t$ ， $\beta > 0$ ，則 $C_t = (b_1 + b_2 \beta) Y_t + b_3 A_t$ 。若作者實證結果獲得：

$C_t = 0.72 Y_t + 0.06 A_t$ 。以下敘述何者正確：

- 【A】 暫時性所得變動對消費的影響是 0.72
- 【B】 持續性所得變動對消費的影響是 0.72
- 【C】 資產變動對消費的影響，小於暫時性所得變動對消費的影響
- 【D】 持續性所得變動對消費的影響，小於暫時性所得變動對消費的影響

24. 承第 23 題。以下敘述何者正確：

- 【A】 此為絕對所得消費理論
- 【B】 當期減稅的刺激消費效果很大
- 【C】 當期發放消費券的刺激消費效果很大
- 【D】 此為生命循環消費理論

25. 關於政府支出的「排擠效果」，下列何者正確？

- 【A】 古典學派認為發生「完全排擠」
- 【B】 古典學派認為利率上升、總合需求增加
- 【C】 凱因斯學派認為排擠民間消費
- 【D】 凱因斯學派認為利率下降、排擠民間投資

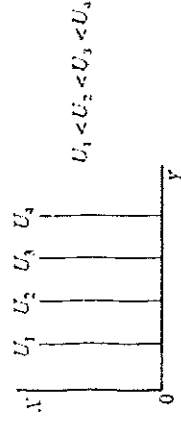
26. 下列哪一項是屬於個體經濟學所研究的課題？

- 【A】 電子產業之價格改變
- 【B】 經濟成長
- 【C】 全國之失業率
- 【D】 通貨膨脹率

27. 經濟學家使用_____來簡化實際現象以提高對於經濟狀況之了解。

- 【A】 模型(models)
- 【B】 系統(systems)
- 【C】 模組(paradigms)
- 【D】 假設(assumptions)

圖 28



28. 圖 28 顯示某一消費者對於商品 X 和 Y 的無異曲線。下列何者正確？

- 【A】 消費者無法從商品 X 得到滿足
- 【B】 消費者無法從商品 Y 得到滿足
- 【C】 消費者厭惡(dislike)商品 X
- 【D】 消費者偏好商品 X 和 Y 的一個固定比例

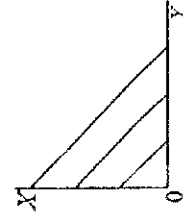
29. 假設橫軸代表汽車的消費量，縱軸代表食物的消費量。如果汽車相對於食物的價格提高，則預算限制式會如何改變？

- 【A】 變陡
- 【B】 變平緩
- 【C】 整條預算限制式外移
- 【D】 不確定

30. 下列哪一選項是顯示性偏好(revealed preference)用來決定消費者對商品組合(commodity bundles)偏好排序的依據？

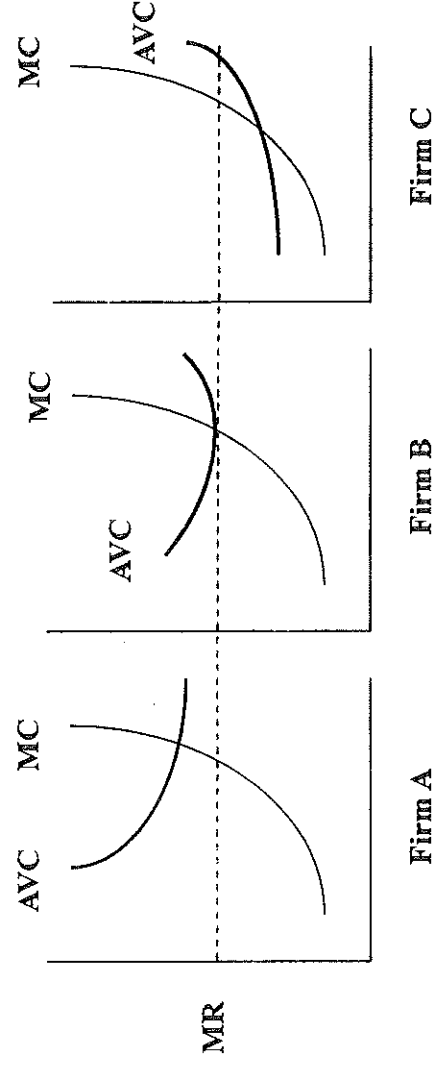
- 【A】 消費行為之預測
- 【B】 市場調查
- 【C】 消費者理論上之市場商品選擇
- 【D】 消費者實際上之市場商品選擇

圖 31



31. 圖 31 代表張三對於 X 和 Y 商品的偏好。根據圖 31，下列何者正確？
【A】 X 是厭惡財(bad commodity)
【B】 張三不會購買 X 商品
【C】 X 和 Y 商品可視為完全互補(perfect complements)
【D】 X 和 Y 商品可視為完全替代(perfect substitutes)
32. 根據圖 31，關於張三之邊際替代率(marginal rate of substitution, *MRS*)，下列何者正確？
【A】 *MRS* 為負數且遞增
【C】 *MRS* 為正數且遞增
【B】 *MRS* 遞增(increasing)
【D】 *MRS* 為固定常數(constant)
33. 描述某一商品需求與所得間之關係的曲線稱為：
【A】 需求曲線(demand curve)
【C】 常態曲線(normal curve)
【B】 恩格爾曲線(Engel curve)
【D】 所得消費曲線(income consumption curve)
34. 下列哪一選項代表齊序偏好(homothetic preferences)？
【A】 當所得提升時，某消費者將會購買更多的奢侈品(luxury goods)
【B】 某消費者不管所得水準如何，總是將其所得的 10% 存起來
【C】 某消費者之恩格爾曲線是水平線
【D】 某消費者之恩格爾曲線不是直線
35. 所得彈性(income elasticity)大於一的商品稱為：
【A】 必須品(necessary goods)
【C】 奢侈品(luxury goods)
【B】 彈性品(elastic goods)
【D】 互補品(complementary goods)
36. 關於需求彈性(demand elasticity)與總收益(total revenue)間的關係，下列何者正確？
【A】 當需求具有彈性(elastic)時，其價格上升將導致總收益的增加
【B】 當需求不具彈性(inelastic)時，其價格下跌將導致總收益的增加
【C】 當需求不具彈性(inelastic)時，其價格上升將導致總收益的增加
【D】 當需求為單位彈性(unitary)時，其價格下跌將導致總收益的增加
37. 假設李四的效用函數為 $U = 3F \times C$ ，其中 F 代表食物、C 代表衣服。衣服的價格為一件 5 元，食物的價格為一公斤 20 元。李四有 160 元，其最適的消費選擇為：
【A】 20 件衣服和 5 公斤食物
【C】 16 件衣服和 4 公斤食物
【B】 4 件衣服和 16 公斤食物
【D】 3 件衣服和 3 公斤食物
38. 廠商使用的所有生產要素數量均可以改變，此一期間稱為：
【A】 短期(short run)
【C】 市場期間(a market period)
【B】 長期(long run)
【D】 動態(a dynamic period)
39. 邊際技術替代率(marginal rate of technical substitution)遞減時，則等產量曲線(isoquants)會呈現：
【A】 斜率為負(downward slopping)
【C】 直線(a straight line)
【B】 凸向原點(strictly convex to the origin)
【D】 L 型(L-shaped)
40. 獨占性競爭廠商在長期均衡時必須滿足下列哪一項條件？
【A】 $P = AC = MC$
【C】 $MR = MC = AC$
【B】 $P = AC > MR$
【D】 $P = MR = MC$

圖 41



41. 根據圖 41，哪個廠商在短期時仍會繼續經營？

- 【A】 Firm A
【C】 Firm B 和 Firm C

42. 根據圖 41，廠商 C 的情況，下列何者正確？

- 【A】 利潤為正
【C】 利潤為負
【B】 Firm C
【D】 所有廠商
【B】 打平 (breaking even)
【D】 產品市場的價格接受者

表 43

# of Workers	Total Output	Wage Rate	Short-run TC	Short-run AC
0	0	\$20	\$0	
1	1	\$20	\$20	
2	4	\$20	\$40	
3	8	\$20	\$60	
4	13	\$20	\$80	
5	17	\$20	\$100	

43. 根據表 43，短期邊際成本曲線之斜率在何時變為正數？

- 【A】 1 個工人
【C】 3 個工人
【B】 2 個工人
【D】 4 個工人

44. 根據表 43，下列何者正確？

- 【A】 第一單位產出之短期邊際成本為 \$10
【B】 第三個工人的勞動邊際產出為 3 單位
【C】 第一單位產出之短期邊際成本為 \$40
【D】 第二個工人的勞動邊際產出為 3 單位

45. 假設一價格接受之廠商其短期成本函數為： $C(x) = 2x^3 - 4x^2 + 10x + 6$ ，下列何者正確？

- 【A】 廠商的邊際變動成本函數為 $2x^2 - 4x + 6$
【B】 廠商的邊際成本函數為 $6x^2 - 8x + 10$
【C】 若價格大於 8 則廠商短期的產出水準為正
【D】 B 和 C 皆正確

46. 獨占性競爭廠商的特徵為何？
【A】 產品異質化(differentiated products)
【C】 賣方為價格接受者(price takers)
【B】 進入障礙(barriers to entry)
【D】 以上皆是
47. Cournot 均衡時會發生下列何種情況？
【A】 每一廠商的策略中會決定一個產出水準
【B】 每一廠商決定的賣價相同
【C】 每一廠商賣出的數量相同
【D】 每一廠商所得到的利潤皆為零
48. 若邊際成本為正，則獨占廠商的均衡點會發生在哪裡？
【A】 需求為單位彈性(unit elastic)
【C】 需求具有彈性(elastic)
【B】 需求為不具彈性(inelastic)
【D】 無法判斷
49. 在下列何種情況下，廠商獨占對於消費者剩餘沒有影響？
【A】 獨占廠商之成本遞減
【C】 需求為完全彈性(perfectly elastic)
【B】 需求完全不具彈性(perfectly inelastic)
【D】 以上皆非
50. 下列敘述何者正確？
甲. 每個資源的消費效率配置(consumption-efficient allocation)也就是柏拉圖效率(Pareto efficient)
乙. 每個資源的生產效率配置(production-efficient allocation)也就是柏拉圖效率
丙. 每個資源的柏拉圖效率也就是消費效率
丁. 每個資源的柏拉圖效率也就是生產效率
【A】 甲和乙
【C】 丙和丁
【B】 甲和丙
【D】 乙和丁